



PEMERINTAH KABUPATEN KEDIRI
DINAS PENDIDIKAN
UPTD SMP NEGERI
PENILAIAN AKHIR SEMESTER GASAL
TAHUN PELAJARAN 2021/2022

Mata Pelajaran : IPS

Kelas/Semester : VII / 1

Hari, Tanggal : Jum'at, 10 Desember 2021

Waktu : 90 menit

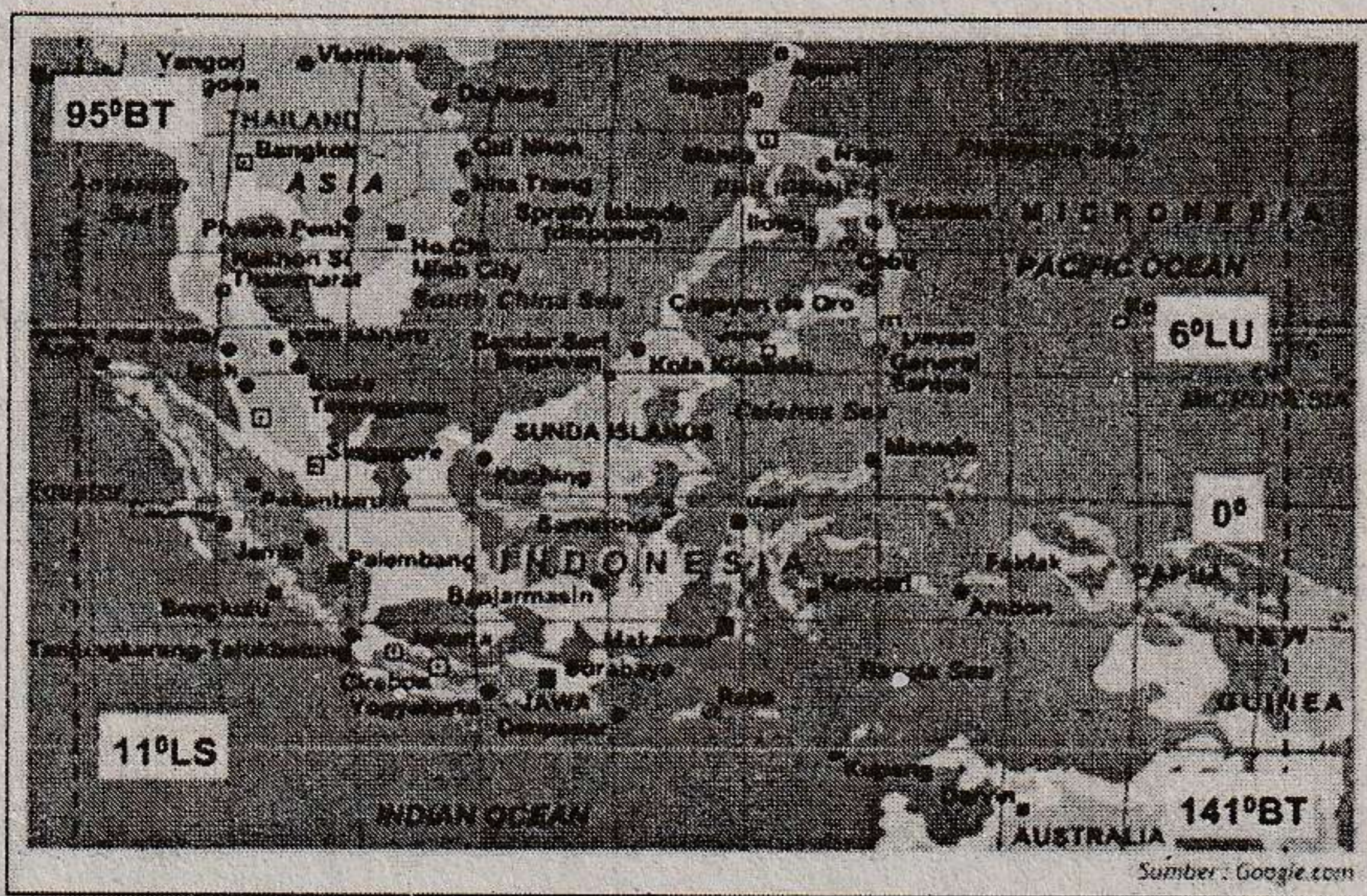
I. Pilihlah Jawaban Yang Paling Benar

1. Pembeli rambutan yang tinggal di daerah Jombang biasanya membeli rambutan ke daerah Tulungagung, namun kemudian diketahui ada daerah di Kediri penghasil rambutan. Karena jarak Jombang lebih dekat dengan Kediri dengan biaya transportasi yang lebih murah, para pembeli rambutan dari daerah Jombang akhirnya beralih membeli rambutan ke daerah Kediri. Akibat yang terjadi dari interaksi antar ruang tersebut adalah
 - A. Interaksi antara daerah Kediri dengan Tulungagung melemah
 - B. Interaksi antara daerah Jombang dengan Tulungagung melemah
 - C. Interaksi antara daerah Jombang dengan Kediri melemah
 - D. Interaksi antara daerah Kediri dengan Tulungagung menguat

2. Aktivitas penduduk yang terus meningkat pada akhirnya akan memerlukan lahan untuk menampung aktivitas tersebut. Semakin banyak penduduk yang datang pada suatu kota akan disertai dengan kebutuhan tempat tinggal. Akibatnya terjadi alih fungsi lahan dari lahan pertanian menjadi permukiman. Hal yang sama juga terjadi pada industri, perdagangan, jasa, dan lainnya yang memerlukan lahan untuk menampung aktivitasnya. Dengan demikian, terjadi perubahan penggunaan lahan dari pertanian ke non pertanian (permukiman, industri, perdagangan, jasa, dan lainnya). Berikut yang bukan bentuk perubahan akibat interaksi keruangan yang terjadi jika aktivitas penduduk terus meningkat adalah
 - A. Kebutuhan akan tempat tinggal meningkat
 - B. Semakin banyak penduduk yang datang pada suatu kota
 - C. Terjadi perubahan penggunaan lahan pertanian ke non pertanian
 - D. Pemusatan aktivitas manusia akan sepenuhnya tertuju ke kota

3. Skala peta menunjukkan perbandingan antara jarak di peta dengan jarak sesungguhnya di lapangan. Contoh, skala sebuah peta adalah 1 : 1.000.000, berarti objek yang jaraknya 1 cm di peta sama dengan 1.000.000 cm atau 10 km jarak sesungguhnya di lapangan. Jarak kota Kediri ke kota Surabaya di peta 6 cm dengan skala peta 1 : 1.750.000 sehingga jarak sesungguhnya kota Kediri ke kota Surabaya adalah
 - A. 95 km
 - B. 100 km
 - C. 105 km
 - D. 115 km

4. Perhatikan letak astronomis Indonesia berikut ini!



Letak astronomis Indonesia

Berdasarkan letak astronomis, Indonesia terletak di antara 6°LU-11°LS dan 95°BT-141°BT. Artinya, berdasarkan letak astronomis tersebut, Indonesia adalah negara dengan karakteristik iklim tropis. Dari gambar dan keterangan di atas berikut merupakan pengertian yang benar dari letak astronomis

- A. letak berdasarkan titik koordinat yang meliputi garis lintang dan garis bujur
- B. letak berdasarkan kenyataannya di permukaan bumi
- C. letak Indonesia berada di antara benua Australia dan benua Asia
- D. letak yang memberi akibat sebagai jalur lalu lintas pelayaran dan perdagangan

5. Laut Indonesia memiliki angka potensi lestari yang besar, yaitu 6,4 juta ton per tahun. Potensi lestari adalah potensi penangkapan ikan yang masih memungkinkan bagi ikan untuk melakukan regenerasi hingga jumlah ikan yang ditangkap tidak mengurangi populasi ikan. Berdasarkan aturan internasional, jumlah tangkapan yang diperbolehkan adalah 80 persen dari potensi lestari atau sekitar 5,12 juta ton per tahun. Kenyataannya, jumlah hasil tangkapan ikan di Indonesia belum mencapai angka itu. Artinya, masih ada peluang untuk meningkatkan jumlah tangkapan yang diperbolehkan

Berdasarkan teks di atas apa yang bisa menjadi potensi kemaritiman Indonesia

- A. laut Indonesia memiliki angka potensi lestari yang besar dan tidak memungkinkan untuk melakukan penangkapan ikan
- B. masih ada peluang untuk meningkatkan jumlah tangkapan ikan yang diperbolehkan
- C. potensi penangkapan ikan yang cukup besar untuk secepatnya mengurangi populasi ikan
- D. tangkapan yang diperbolehkan adalah sebesar mungkin untuk peningkatan pendapatan

6. Perhatikan tabel berikut ini!

Hampir semua provinsi memiliki barang tambang dengan berbagai kegunaan. Berikut adalah daftar provinsi di Indonesia beserta hasil tambangnya:

Provinsi	Hasil Tambang
Nanggroe Aceh Darussalam	Perak, gas alam, minyak bumi, emas, perak, dan batu bara
Sumatera Utara	Minyak bumi, mangan, dan gas alam
Sumatera Barat	Batu bara, belerang, dan mangan
Riau	Platina, timah, bauksit, mangan, granit, dan gas alam
Kepulauan Riau	Minyak bumi, timah, dan bauksit
Jambi	Belerang, emas, batu bara, dan tembaga
Bengkulu	Batu bara, perak, platina dan mangan, dan emas
Sumatera Selatan	Batu bara, gas alam, dan minyak bumi
Kepulauan Bangka Belitung	Bauksit dan timah

Berdasarkan tabel di atas provinsi di Indonesia sebagai penghasil batu bara adalah

- A. Riau, Sumatera Utara, Jambi dan Bengkulu
- B. Sumatera Barat, Riau, Kepulauan Riau dan Sumatera Selatan
- C. Sumatera Barat, Jambi, Sumatera Selatan dan Bengkulu
- D. Sumatera Utara, Sumatera Barat, Sumatera Selatan dan Jambi

7. Perhatikan cuplikan berita berikut!

KOMPAS.com - Badan Meteorologi Klimatologi dan Geofisika (BMKG) mencatat aktivitas gempa bumi di Indonesia meningkat selama bulan Oktober 2021, mencapai 844 kali gempa.

Berdasarkan hasil monitoring gempa BMKG, selama bulan Oktober 2021 di wilayah Indonesia terjadi aktivitas gempa bumi sebanyak 844 kali dalam berbagai variasi magnitudo dan kedalaman.

Berdasarkan berita di atas ternyata di Indonesia sering mengalami gempa, hal ini merupakan pengaruh dari letak Indonesia secara

- A. geologis
- B. astronomis
- C. geografis
- D. ekologis

8. Perhatikan peta kepulauan Indonesia berikut ini!



Wilayah yang merupakan tempat persebaran fauna tipe Asiatis terdapat pada nomor

- A. 1, 2 dan 3
- B. 1, 3 dan 5
- C. 1, 4 dan 6
- D. 1, 4 dan 7

9. Perhatikan pernyataan berikut ini !

- 1) Lesti mencurahkan seluruh isi hatinya di buku harian
 - 2) Fira mempresentasikan hasil tugasnya di depan kelas
 - 3) Ratih suka memperhatikan Lusi yang sedang menulis
 - 4) Rina sedang menelepon Dita menanyakan tugas sekolah
 - 5) Seorang siswa yang bersalaman dengan gurunya ketika bertemu di sekolah
- Dari pernyataan di atas, yang termasuk contoh interaksi sosial adalah...

- A. 1, 2 dan 4
- B. 1, 3 dan 5
- C. 2, 3 dan 5
- D. 2, 4 dan 5

10. Manusia pada hakikatnya adalah makhluk sosial. Seseorang tidak bisa hidup sendiri dan bagaimanapun juga kita membutuhkan adanya interaksi sosial untuk memenuhi kebutuhan kita. Salah satu tujuan dari proses interaksi sosial adalah...
- Membuat kita menjadi manja
 - Membuat kita acuh dan tidak peduli terhadap orang lain
 - Membuat orang malas dan tergantung pada orang lain
 - Membuat seseorang suka membantu teman bila terkena musibah

11. Perhatikan gambar berikut ini!



Dari gambar di atas yang merupakan bentuk interaksi sosial disosiatif yaitu

- konflik
- kontravensi
- kompetisi
- Intimidasi

12. Perhatikan tabel di bawah ini !

I	II	III	IV
<ul style="list-style-type: none"> • Asimilasi • Akomodasi • Kerjasama 	<ul style="list-style-type: none"> • Persaingan • Kontravensi • Pertentangan 	<ul style="list-style-type: none"> • Kerjasama • Konflik • Simpati 	<ul style="list-style-type: none"> • Kontravensi • Asimilasi • Intimidasi

Berdasarkan tabel di atas faktor yang mendorong terjadinya proses interaksi sosial adalah kolom

- I
- II
- III
- IV

13. Perhatikan data berikut :

- Norma tersebut berlaku bagi sebagian anggota masyarakat
- Norma tersebut menjiwai seluruh warga dalam sistem sosial
- Norma tersebut mempunyai sanksi yang mengikat setiap anggota masyarakat
- Bila melanggar norma tersebut tidak ada sanksi yang mengikat di masyarakat
- Sebagian besar anggota masyarakat menerima norma tersebut

Sistem norma atau aturan-aturan yang dapat dikategorikan sebagai lembaga sosial harus memiliki syarat :

- 1, 2, 4
- 1, 3, 5
- 2, 3, 5
- 2, 4, 5

14. Perhatikan gambar di bawah ini :



Berdasarkan gambar di atas tingkatan norma yang dilakukan oleh anak tersebut adalah...

- A. Customs
 - B. Mores
 - C. Folksway
 - D. Usage
15. Wadah untuk proses pembentukan dan pembagian kekuasaan dalam masyarakat termasuk terwujudnya proses pembuatan keputusan khususnya dalam negara disebut lembaga...
- A. pendidikan
 - B. agama
 - C. ekonomi
 - D. politik

II. Pilihan Ganda Kompleks (Jawablah pertanyaan dibawah ini dengan dua jawaban benar)

Bacalah dengan teliti teks berikut ini!
(untuk menjawab soal nomor 16 – 18)

Penduduk Indonesia Naik 2,76 Juta Orang dalam 6 Bulan



Jakarta, CNN Indonesia -- Kementerian Dalam Negeri (Kemendagri) mencatat jumlah penduduk Indonesia semester II 2020 sebanyak 271,349 juta jiwa atau naik 2,7 juta dalam tempo enam bulan.

"Jumlah penduduk Indonesia Semester II 2020 yang telah diintegrasikan dengan data hasil sensus penduduk [BPS] berjumlah 271.349.889 jiwa," ujar Sekretaris Jenderal (Sekjen) Kemendagri Muhammad Hudori, dalam Rilis Bersama Data Sensus Penduduk 2020 dan Data Administrasi Kependudukan 2020, Kamis (21/1).


Dari jumlah itu, penduduk pria mencapai 137,11 juta jiwa dan penduduk perempuan berjumlah 134,22 juta jiwa. Berdasarkan provinsi, Jawa Barat menjadi yang terpadat dengan 47,1 juta jiwa. Jawa Timur menyusul dengan 41,04 juta jiwa, Jawa Tengah 37,1 juta jiwa, Sumatra Utara 15,14 juta jiwa, dan Banten 11,64 juta jiwa. Sementara, lima provinsi dengan jumlah penduduk terendah ialah Kalimantan Utara dengan 680 ribu jiwa, Papua Barat 1,15

juta jiwa, Gorontalo 1,19 juta jiwa, Maluku Utara 1,3 juta jiwa, dan Kepulauan Bangka Belitung 1,43 juta jiwa.

Berdasarkan pulau, Jawa tetap menjadi yang terpadat, disusul Sumatra dan Sulawesi. "Kalau dilihat per pulau, Jawa paling banyak 55,94 persen, Sumatra 21,73 persen, Sulawesi 7,43 persen, Kalimantan 6,13 persen, Bali dan Nusa Tenggara 5,57 persen, Papua 2,02 persen, dan Maluku 1,17 persen," ucap Hudori.

<https://www.cnnindonesia.com/nasional/20210121161458-20-596759/penduduk-indonesia-naik-276-juta-orang-dalam-6-bulan>

16. Berdasarkan teks di atas kondisi jumlah penduduk Indonesia pada semester II tahun 2020 adalah (Pilihlah dua jawaban yang benar)
- A. Jumlah penduduk Indonesia naik sebesar 2,7 juta jiwa dalam tempo enam bulan
 - B. Jika diintegrasikan dengan data hasil sensus penduduk berjumlah 217.349.889 jiwa
 - C. Selisih jumlah penduduk laki-laki dengan perempuan adalah 2,89 juta jiwa
 - D. Jumlah penduduk laki-laki lebih sedikit daripada jumlah penduduk perempuan
17. Berdasarkan teks di atas pernyataan yang benar tentang dinamika kependudukan berdasarkan provinsi adalah (Pilihlah dua jawaban yang benar)
- A. Sumatra Utara jumlah penduduknya lebih padat daripada Jawa Tengah
 - B. Jawa Tengah jumlah penduduknya lebih rendah daripada Jawa Timur
 - C. Gorontalo jumlah penduduknya lebih tinggi daripada Kepulauan Bangka Belitung
 - D. Banten jumlah penduduknya lebih rendah daripada Sumatra Utara
18. Berdasarkan teks di atas perbandingan jumlah penduduk dalam angka yang benar berdasarkan provinsi adalah (Pilihlah dua jawaban yang benar)
- A. Selisih jumlah penduduk Jawa Barat dengan Gorontalo adalah 43, 91 juta jiwa
 - B. Selisih jumlah penduduk Jawa Tengah dengan Banten adalah 23, 46 juta jiwa
 - C. Selisih jumlah penduduk Jawa Timur dengan Sumatra Utara adalah 25, 90 juta jiwa
 - D. Selisih jumlah penduduk Maluku Utara dengan Papua Barat adalah 0,15 juta jiwa
19. Perhatikan gambar di bawah ini!




Berdasarkan gambar di atas interaksi sosial dapat terjadi secara perorangan atau kelompok. Berdasarkan prosesnya interaksi sosial dapat terjadi apabila ada...

- A. Kontak sosial
- B. Identifikasi
- C. Komunikasi
- D. Kerja sama

20. Gambar diatas menggambarkan telah terjadi proses interaksi sosial baik secara individu dengan individu maupun individu dengan kelompok. Pernyataan yang sesuai dengan ciri-ciri bahwa seseorang/kelompok telah melakukan interaksi sosial adalah...
- A. Jumlah pelakunya satu orang atau lebih
 - B. Berlangsung secara timbal balik
 - C. Terjadinya perselisihan
 - D. Ada kesepakatan tertulis antar pelaku

III. Berikan Pernyataan Benar Atau Salah Pada Pernyataan Di Bawah Ini!

Perhatikan gambar Angin Muson Barat berikut ini!
Untuk menjawab soal nomor 21 -25



Gambar 1. Pergerakan Angin Muson Barat

21. (B) – (S) Pergerakan Angin Muson Barat bertiup dari benua Asia ke benua Australia
22. (B) – (S) Angin Muson Barat mendatangkan musim kemarau di Indonesia
23. (B) – (S) Angin Muson Barat ini bertiup pada bulan Oktober sampai dengan April
24. (B) – (S) Pada waktu terjadi angin Muson Barat tersebut para petani mulai menyiapkan lahannya untuk bercocok tanam, jenis tanaman yang ditanam adalah padi.
25. (B) – (S) Pada waktu terjadi angin Muson Barat tersebut para nelayan dapat mencari ikan di laut tanpa banyak terganggu oleh cuaca buruk, sehingga pasokan ikan bisa berlimpah
26. (B) – (S) Bentuk interaksi sosial disosiatif terjadi apabila seseorang atau sekelompok orang melakukan interaksi sosial yang mengarah pada kesatuan pandangan.
27. (B) – (S) Fahriza mengidolakan pemain bola, sehingga tingkah lakunya seperti idolanya. Proses interaksi sosial ini termasuk identifikasi.
28. (B) – (S) Keluarga memberi perlindungan kepada anggota keluarganya baik perlindungan fisik maupun kejiwaan merupakan fungsi afeksi dalam lembaga keluarga
29. (B) – (S) Bentuk kerja sama didalam masyarakat Indonesia lebih dikenal dengan nama gotong royong
30. (B) – (S) suatu lembaga yang bertujuan untuk mengubah tingkah laku individu kearah yang lebih baik melalui proses interaksi dengan lingkungan sekitar adalah lembaga pendidikan

IV. Pasangkan Pernyataan Pada Lajur Kiri Dengan Alternatif Jawaban Pada Lajur Kanan

Untuk soal nomor 31 sampai 35 bacalah dengan cermat teks berikut ini!

Indonesia merupakan salah satu negara yang sering mengalami gempa bumi, terutama pulau-pulau sepanjang pertemuan lempeng Sumatra, Jawa, Nusa Tenggara, Maluku dan Sulawesi. Gempa yang terjadi dapat dibedakan menjadi gempa tektonik maupun vulkanik. Gempa tektonik adalah gempa karena pergerakan lempeng tektonik, sedangkan gempa vulkanik adalah gempa yang terjadi karena adanya aktivitas kegunungapian.

Gempa bumi dapat menimbulkan bencana lainnya yaitu Tsunami. Guncangan akibat gempa bumi membuat gerakan tanah di dasar laut, sehingga menimbulkan gelombang. Ketika sampai di pantai, gelombang tersebut semakin besar dan menimbulkan bencana tsunami.

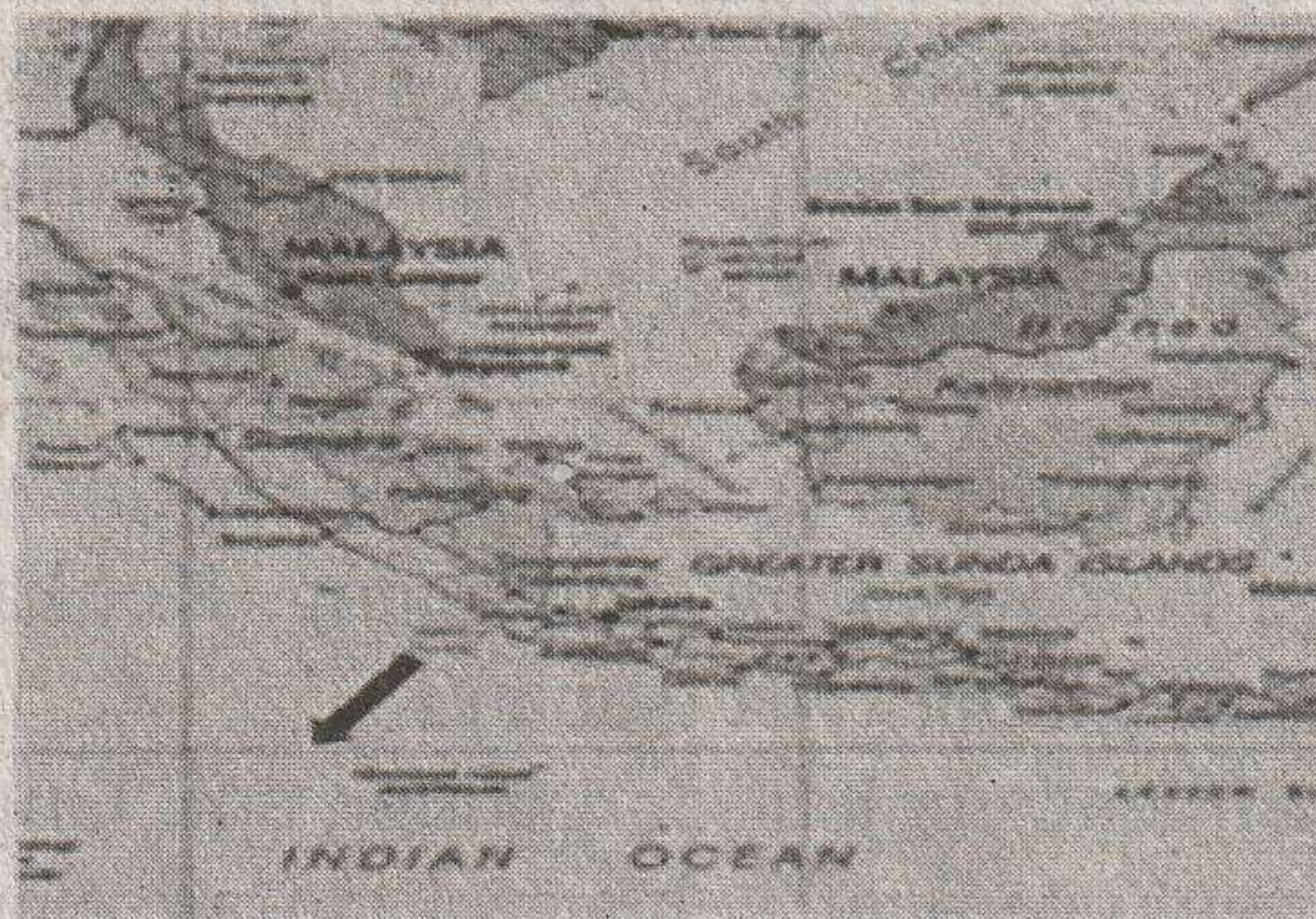
Selain gempa bumi, Indonesia juga rawan akan bencana letusan gunung api. Gunung berapi adalah lubang kepundan atau rekahan dalam kerak bumi tempat keluarnya cairan magma atau gas atau cairan lainnya ke permukaan bumi. Ciri gunung berapi adalah adanya kawah atau rekahan. Sewaktu-waktu gunung berapi tersebut dapat meletus.

Berdasarkan teks di atas pasangkan pernyataan berikut dengan jawaban yang tepat.

Soal	Jawab	Pilihan Jawaban
31. Gempa yang terjadi karena adanya aktivitas kegunungapian	(...)	A. Sugesti
32. Gempa yang membuat gerakan tanah di dasar laut, sehingga menimbulkan gelombang besar sampai ke daratan	(...)	B. Gunung Meletus
33. Pulau di Indonesia yang jarang terkena gempa	(...)	C. Asimilasi
34. Gempa yang terjadi karena pergerakan lempeng bumi	(...)	D. Simpati
35. Selain gempa bumi Indonesia juga rawan akan bencana	(...)	E. Kalimantan
36. Marsela pada saat upacara bendera hari senin di sekolah tidak memakai seragam lengkap karena topi dan dasinya ketinggalan di rumah, maka Marsela mendapat sanksi dari pelanggaran itu. Berdasarkan kasus di atas tingkatan normanya adalah	(...)	F. Keluarga
37. Ketika melihat tayangan youtube di hp tentang banjir bandang yang terjadi di Kecamatan Bumiaji, Batu, sebagai manusia kita ikut merasakan kesedihan dan penderitaan mereka. Dalam proses interaksi sosial termasuk...	(...)	G. Vulkanik
38. Sikap toleransi, saling menghargai orang lain dan kebudayaannya, persamaan dalam unsur - unsur kebudayaan, serta perkawinan campuran merupakan cara mempermudah proses ...	(...)	H. Identifikasi
39. Seorang anak perempuan bermain masak-masakan ketika melihat melihat ibunya memasak di dapur. Tindakan anak tersebut dinamakan...	(...)	I. Tektonik
40. Lembaga sosial yang berfungsi memberi pedoman spiritual bagi umat manusia adalah...	(...)	J. Tata kelakuan

V. Isilah Soal Soal Dibawah Ini Dengan Jawaban Singkat dan Benar.

41. Perhatikan peta berikut ini!



Garis yang ditunjukkan oleh panah warna hitam pada peta di atas adalah

42. Perhatikan gambar rumah adat berikut ini!



Rumah adat di atas bernama Lamin berasal dari provinsi

43. Dalam melakukan interaksi sosial baik secara individu maupun kelompok agar tercipta kerukunan dan keamanan perlu adanya aturan/norma. Lembaga yang mengatur rangkaian tata cara dalam memenuhi kebutuhan manusia dalam menjalani kehidupan dengan tujuan mendapatkan keteraturan hidup disebut...
44. Anton hari ini tidak masuk sekolah, begitu juga Doni. Anton tidak masuk sekolah karena diajak Doni untuk membolos. Anton telah dipengaruhi oleh pikiran Doni. Faktor yang mempengaruhi interaksi Doni dan Anton adalah ...
45. Lembaga sosial yang mengatur hubungan antar manusia dalam pemenuhan kebutuhan hidup disebut lembaga ...